



Musterlösung

29. Arnsberger ADAC Klassik

Kontaktlos durch das Sauerland

Gruppe **A** und **C** (touristisch)




04.09.2021



Nr.	km mls	Bild	Beschreibung	Nr.	km mls	Bild	Beschreibung
-----	-----------	------	--------------	-----	-----------	------	--------------

1		Zum warm up eine kurze WP					
---	--	---------------------------	--	--	--	--	--



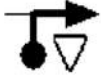


















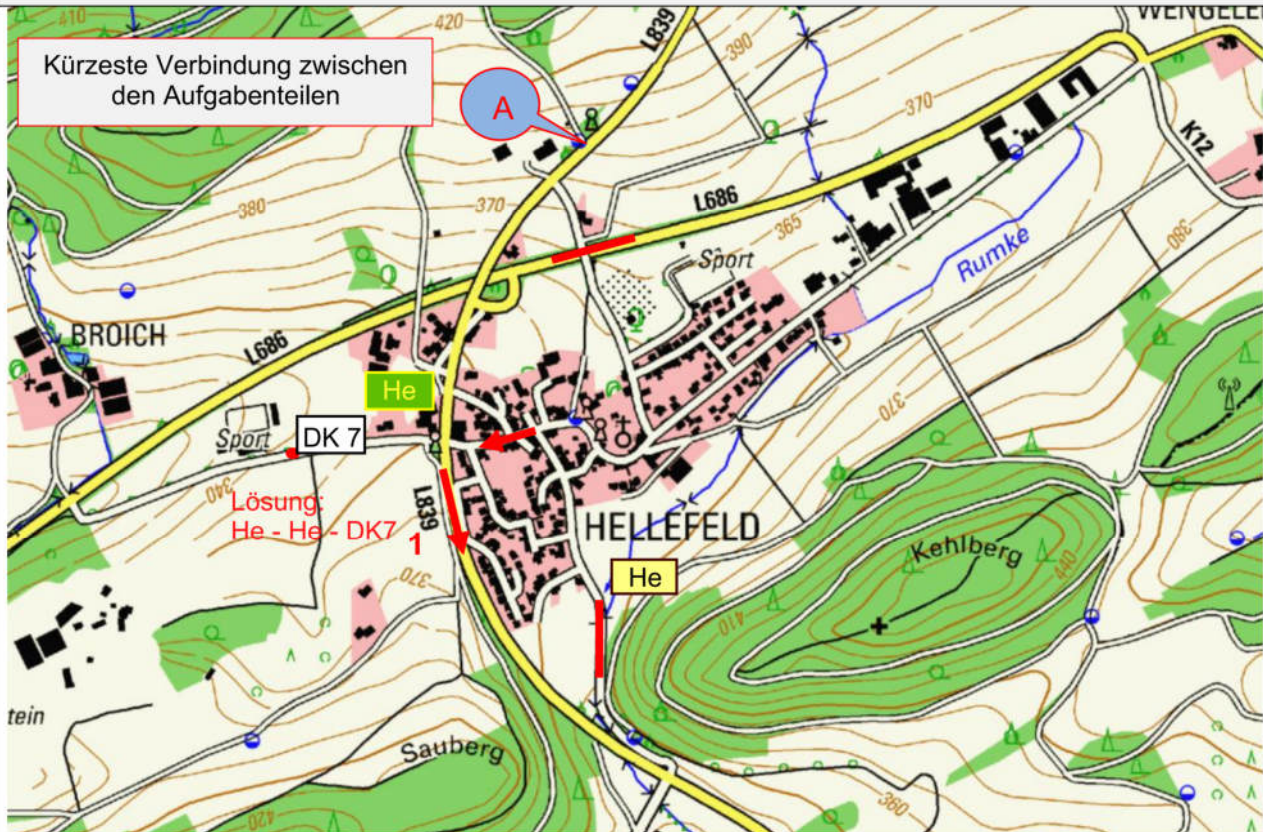

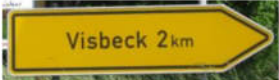
WP1: Sollzeitprüfung

Fahren Sie bitte die gekennzeichnete Strecke in 11 Sek

Messung per Lichtschranke



2		Start Schützenhalle Bruchhausen		3	0,1 0,06		Achtung Zone 30
4	0,1 0,06			5	1,7 Ni 1,05		
6	1,1 Ar 0,68			7	0,1 0,06		
8	0,2 0,12			9	0,3 0,18	Unterm Römberge 	

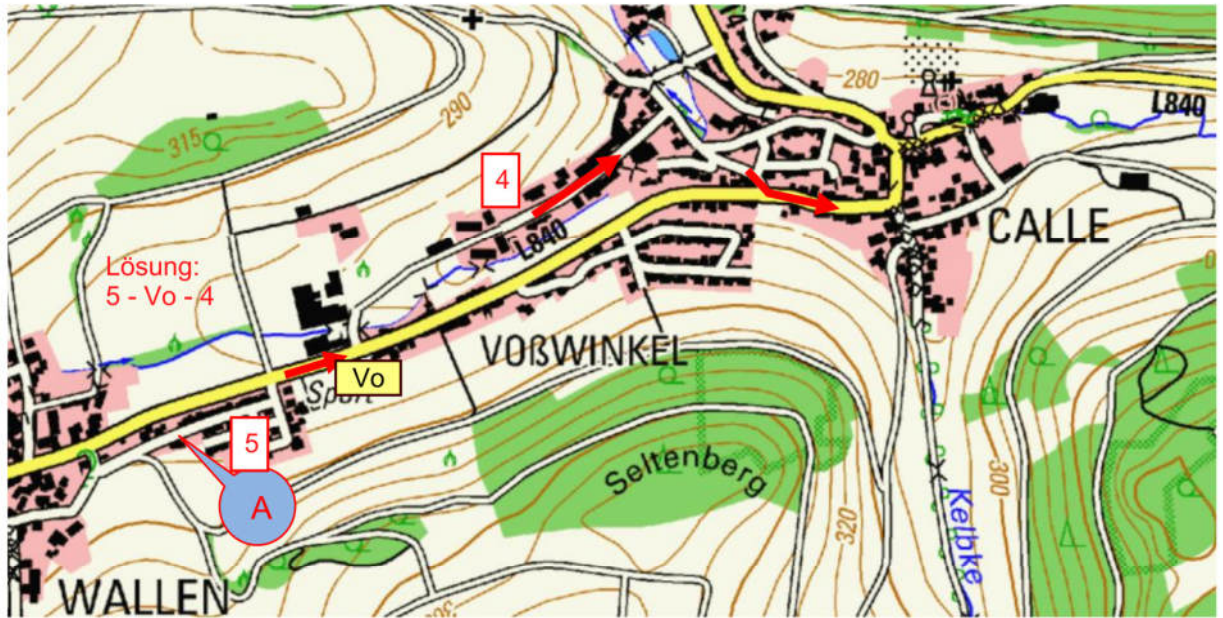
Nr.	km mls	Bild	Beschreibung	Nr.	km mls	Bild	Beschreibung
10	0,4 0,24			11	0,5 0,31		
12				13			
14		Nach 9,2 km (5,71 mls) fahren Sie ab A in der Reihenfolge Pfeil-Strich-Pfeil-Punkt-Strich					
<div style="border: 1px solid red; padding: 5px; display: inline-block; margin-bottom: 10px;">Kürzeste Verbindung zwischen den Aufgabeteilen</div> 							
15							

Nr.	km mls	Bild	Beschreibung	Nr.	km mls	Bild	Beschreibung
-----	-----------	------	--------------	-----	-----------	------	--------------

16		Fahren Sie ab A in der Reihenfolge Punkt - Strich – Strich – Pfeil - Pfeil					
17	Be			18			
19	2,5 Wa 1,55						

Nr.	km mls	Bild	Beschreibung	Nr.	km mls	Bild	Beschreibung
-----	-----------	------	--------------	-----	-----------	------	--------------

20 | | | **Fahren Sie nun weiter von A an nach dem Kartenausschnitt. Folgen Sie bitte den Pfeilen!**



21				22			
23	0,6			24	3,2		
25	0,37 1,5			26	1,99 0,3		
27	0,93 1,6			28	0,19 3,5		
29	0,99			30	2,17 0,7		
					0,43		

Nr.	km mls	Bild	Beschreibung	Nr.	km mls	Bild	Beschreibung
-----	-----------	------	--------------	-----	-----------	------	--------------

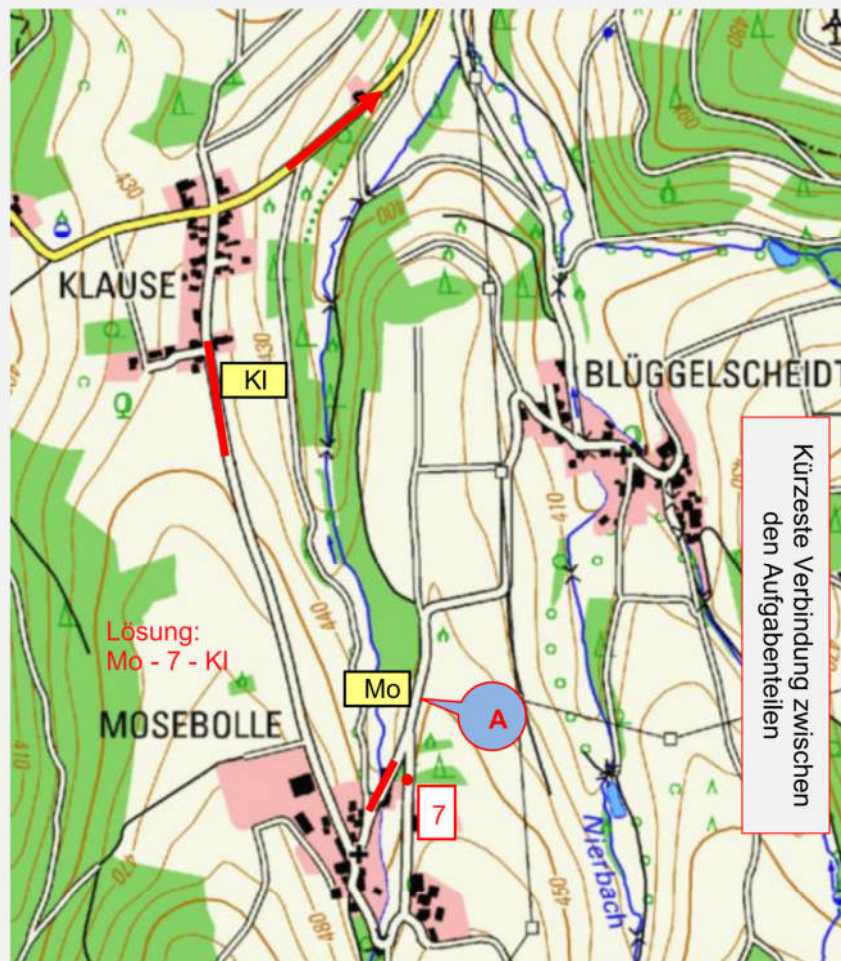
31	GLP 1 Mosebolle:						
----	-------------------------	--	--	--	--	--	--



Fahren Sie ab dem FIA Zeichen „Start“ die nächsten **1550 m (0,96 mls)** mit einer Durchschnitts-geschwindigkeit von **24 km/h (14,9 mls)**.














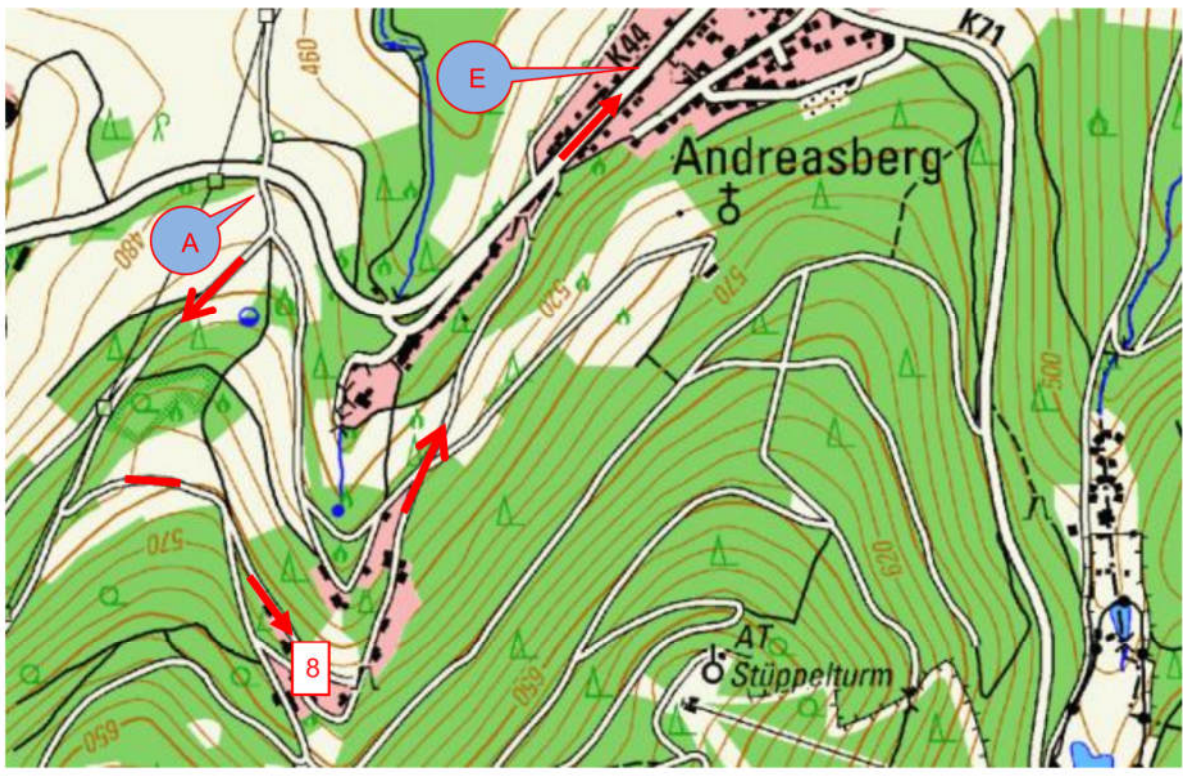
32	Folgen Sie ab A den Pfeilen, Strichen und Punkten in der kürzesten Verbindung						
----	--	--	--	--	--	--	--







Buchempfehlung

Kürzeste Verbindung zwischen den Aufgabenteilen

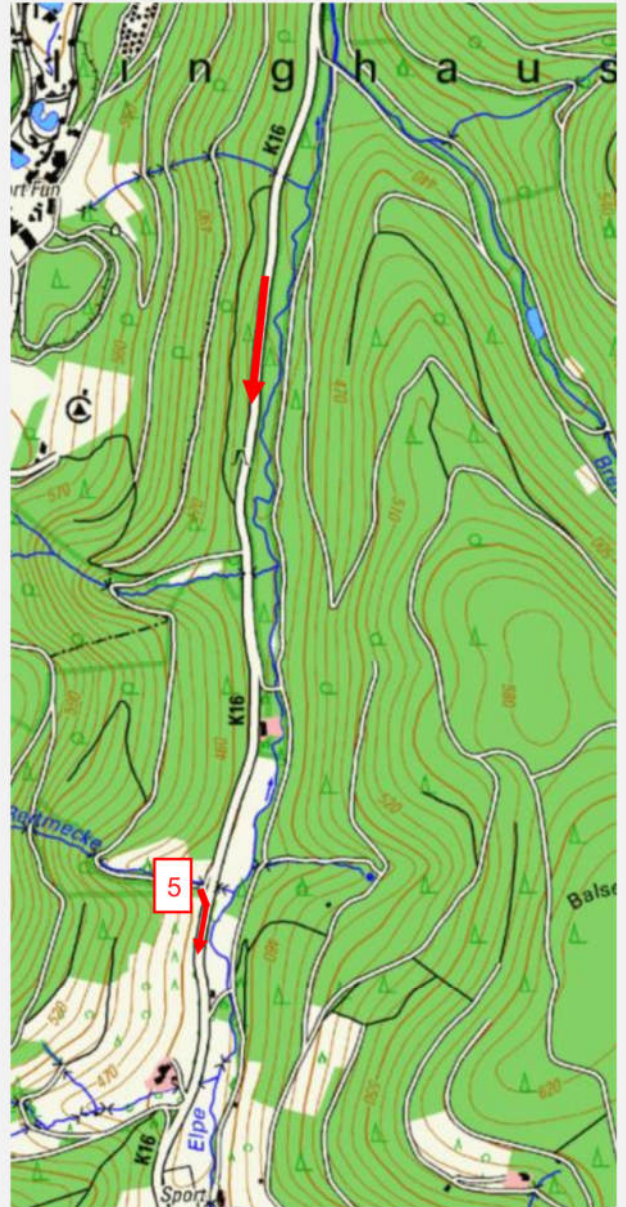





Nr.	km mls	Bild	Beschreibung	Nr.	km mls	Bild	Beschreibung
33				34	3,9 2,42		
35	<p>Folgen Sie von A den Pfeilen</p> <div style="text-align: center;">  </div>						
36	Ra			37	0,3 0,19		
38	1,5 0,93						
39	<p>Fahren Sie nun mit Hilfe der Kartenskizze von A nach E</p> <div style="text-align: center;">  </div>						

Nr.	km mls	Bild	Beschreibung	Nr.	km mls	Bild	Beschreibung
-----	-----------	------	--------------	-----	-----------	------	--------------

40				41		<div style="display: flex; align-items: center; justify-content: center;"> <div style="border: 1px solid black; padding: 2px; margin-right: 5px;">Ha</div> <div style="border: 1px solid black; padding: 2px; margin-right: 5px;">Wi</div> <div style="margin-left: 10px;"></div> </div>	
----	--	---	---	----	--	---	---

42 Fahren Sie anhand der beiden Kartenskizzen weiter bis zum Ortseingangsschild Elpe



43		<div style="display: flex; align-items: center; justify-content: center;"> <div style="border: 1px solid black; padding: 2px; margin-right: 5px;">EI</div> <div style="margin-left: 10px;"></div> </div>		44	1,0	<div style="display: flex; align-items: center; justify-content: center;"> <div style="border: 1px solid red; padding: 2px; margin-right: 5px;">7</div> <div style="margin-left: 10px;"></div> </div>	
					0,62		

Nr.	km mls	Bild	Beschreibung	Nr.	km mls	Bild	Beschreibung
45	0,05			46	1,1		
	0,03						
47	0,1						
48	Fahren Sie von A an in numerischer Reihenfolge						
49				50	2,6		
					1,61		

Nr.	km mls	Bild	Beschreibung	Nr.	km mls	Bild	Beschreibung
-----	-----------	------	--------------	-----	-----------	------	--------------




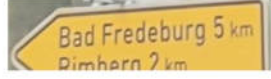







51	Fahren Sie nach 0,1km (0,06 mls) nach der durchkilometrierten Chinesenrallye „Altenfeld“											
	0,0	LfNr. 1	0,0	0,2	LfNr. 2	0,12	0,4	LfNr. 3	0,25	0,5	LfNr. 4	0,31
	1,0	LfNr. 5	0,62	1,2	LfNr. 6	0,75	1,4	LfNr. 7	0,87	1,8	LfNr. 8	1,12
	1,9	LfNr. 9	1,18	2,1	LfNr. 10	1,30	2,3	LfNr. 11	1,43	2,6	LfNr. 12	1,61

52				53	0,8		
54	0,7			55	0,50		
	0,43				2,3		
56	2,8				1,43		
	1,74						

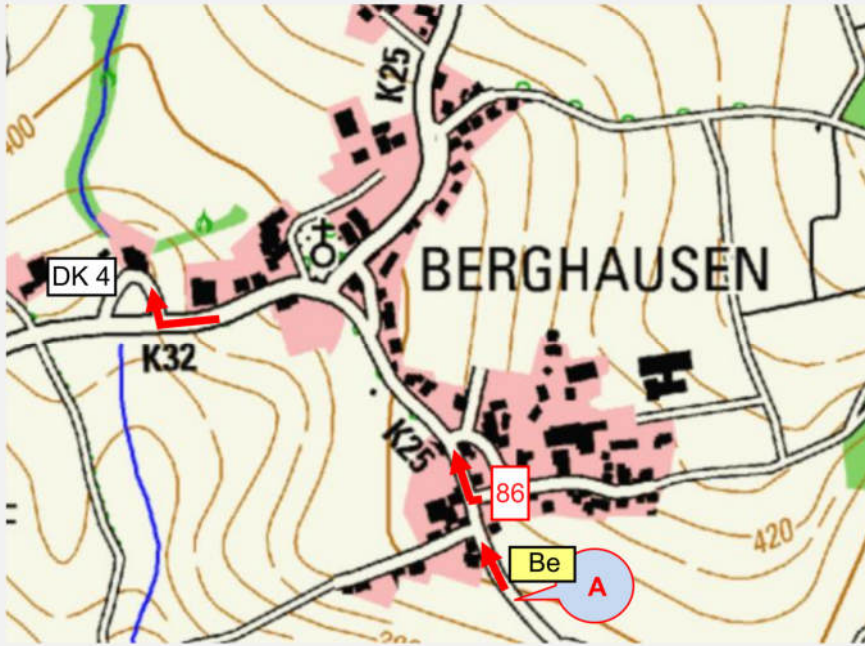
57 Fahren Sie von **A** an nach der Kartenskizze



**Lösung:
75 - Do**

Nr.	km mls	Bild	Beschreibung	Nr.	km mls	Bild	Beschreibung
58				59	3,9 Fö Ob		
60	1,4 0,86		Achtung, Bodenwelle vor Baustelle! 	61	2,42 3,8 Ba		
62	0,6 0,37			63	2,36 3,9 Eb		

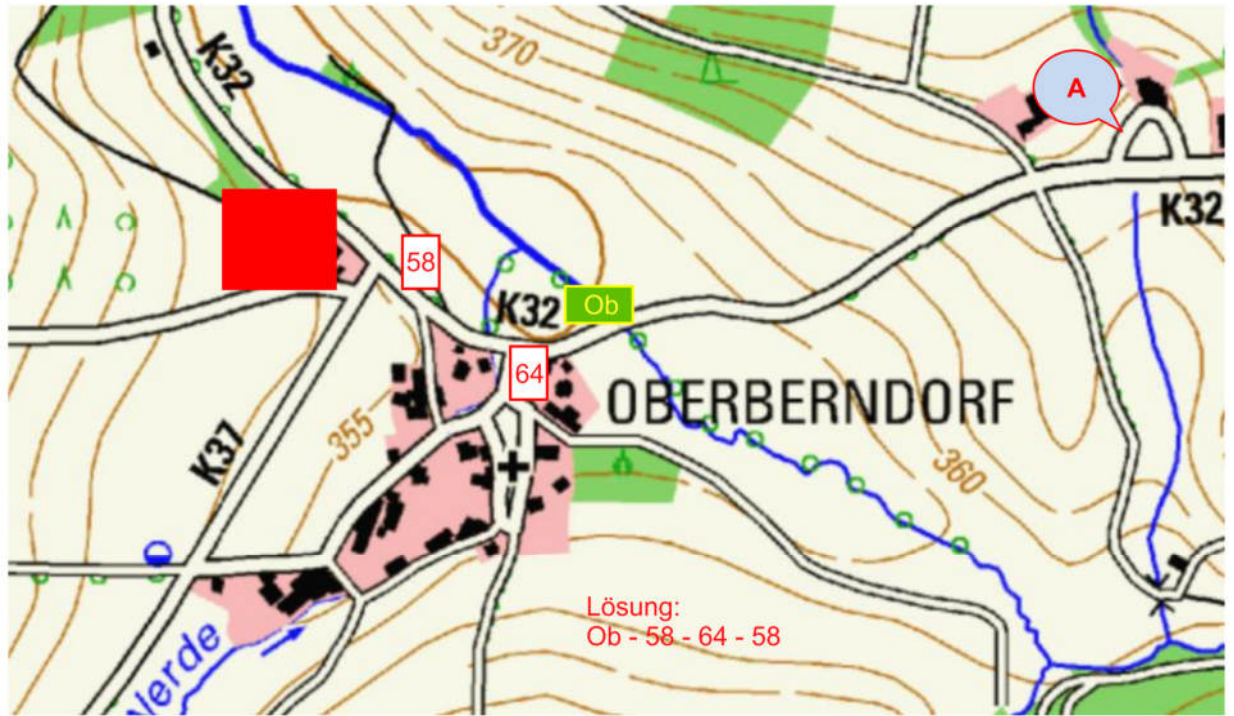
64 Folgen Sie ab **A** den Pfeilen






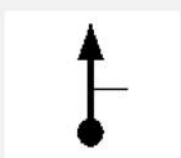




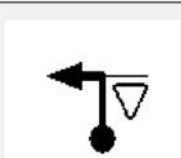
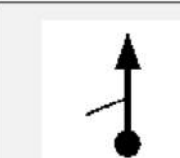
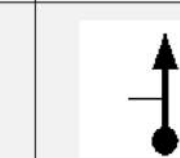



Lösung:
Be - 86 - DK4

Nr.	km mls	Bild	Beschreibung	Nr.	km mls	Bild	Beschreibung
-----	-----------	------	--------------	-----	-----------	------	--------------

65 **Fahren Sie von A nach E nach Chinesenzeichen und Karte.** (Chinesenzeichen von links oben nach rechts unten lesen)



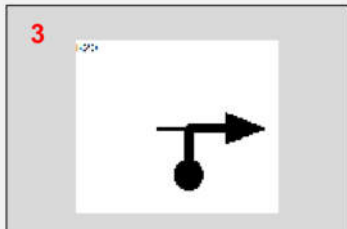
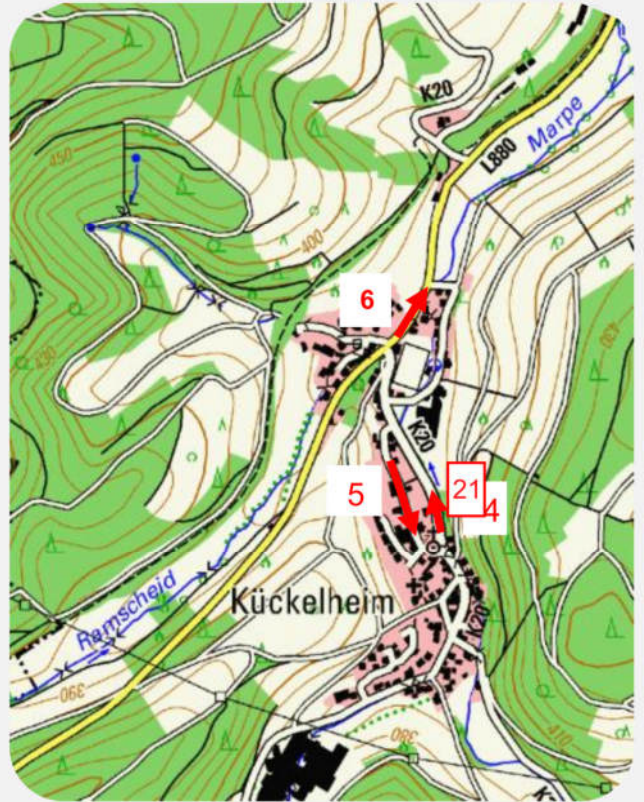
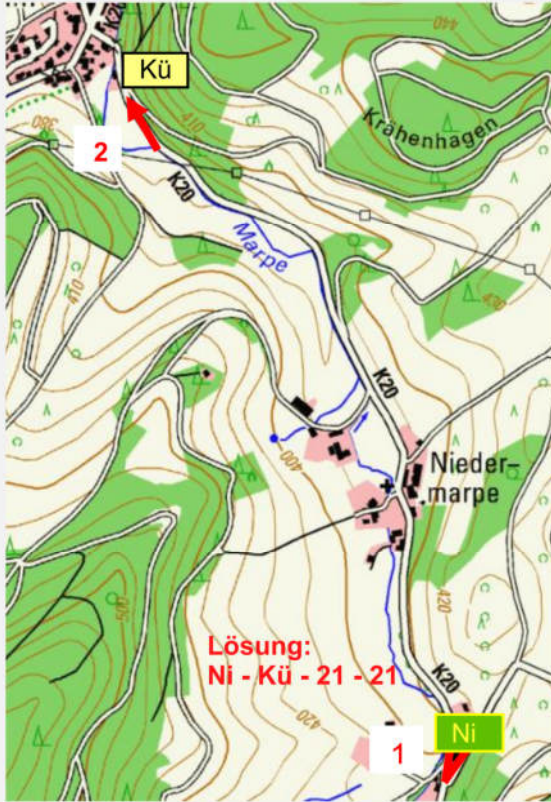
				
	Bitte extrem langsam-Kinder!!! 			
				

66	3,6	<div style="border: 1px solid black; padding: 2px; display: inline-block; margin-bottom: 2px;">Ni</div> <div style="border: 1px solid black; padding: 2px; display: inline-block; margin-bottom: 2px;">Me</div>		67	0,1		
	2,23						
					0,06		

Nr.	km mls	Bild	Beschreibung	Nr.	km mls	Bild	Beschreibung
68	0,1			69	0,1		
	0,06				0,06		
70	2,5			71	0,7		
	1,55				0,43		
72		<p>Fahren Sie die nächsten 1,8 km (1,11 mls) mit einer Durchschnittsgeschwindigkeit von 32 km 19,83 mls).</p>					
73	B55			74	1,0		
				0,62			

Nr.	km mls	Bild	Beschreibung	Nr.	km mls	Bild	Beschreibung
-----	-----------	------	--------------	-----	-----------	------	--------------



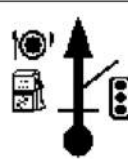



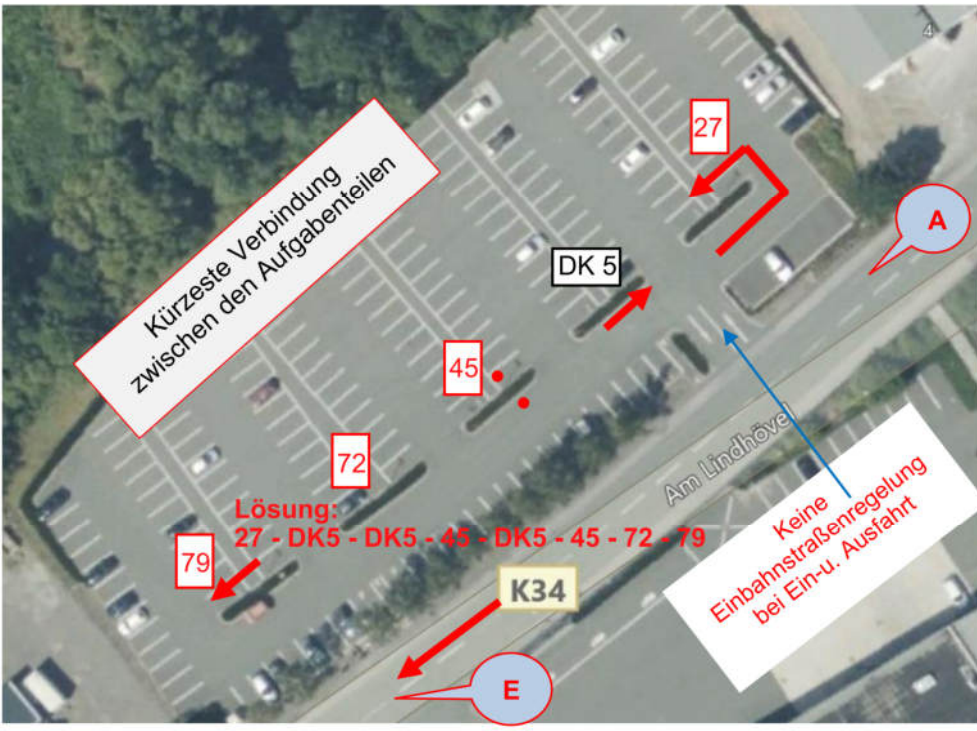











75 | | Fahren Sie bitte laut Karten und Chinesenzeichen von **A** an in nummerierter Reihenfolge



76 | | Fahren sie weiter nach dem Satellitenbild



Nr.	km mls	Bild	Beschreibung	Nr.	km mls	Bild	Beschreibung				
77				78							
79				80	4,7						
81	1,2			82	2,92 0,6						
83	0,75 0,7			84	0,37 0,2						
85	0,43 1,2 0,75										
86	Fahren Sie von A weiter nach der Kartenskizze										
<div style="border: 1px solid red; padding: 5px; display: inline-block;"> Kürzeste Verbindung zwischen den Aufgabenteilen </div>											

Nr.	km mls	Bild	Beschreibung	Nr.	km mls	Bild	Beschreibung
87	2,2			88	1,2		
	1,37				0,75		
89	3,1						
	1,93						
90			Fahren Sie bitte von A nach E in der kürzesten Verbindung der Aufgabenteile. Parkmarkierungen dürfen überfahren werden				
							
91				92			
93				94	3,6		
					2,24		
95	2,2						
	1,37						

Nr.	km mls	Bild	Beschreibung	Nr.	km mls	Bild	Beschreibung
-----	-----------	------	--------------	-----	-----------	------	--------------

96		Fahren Sie von A an weiter nach der Kartenskizze					
----	--	---	--	--	--	--	--

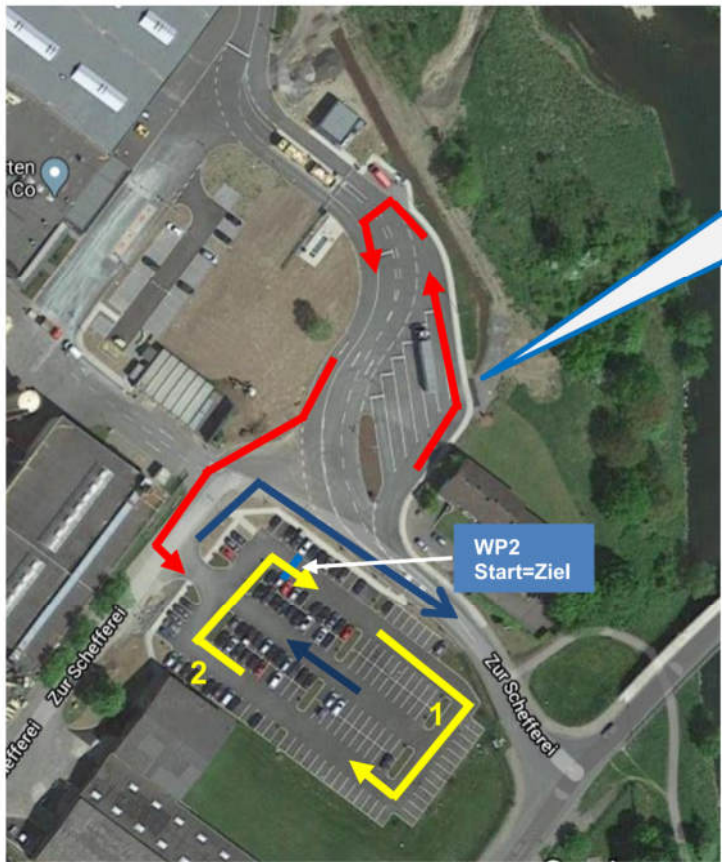


97		Fahren Sie von A nach E (Sauerländische Spanplatte).					
----	--	--	--	--	--	--	--



Nr.	km mls	Bild	Beschreibung	Nr.	km mls	Bild	Beschreibung
-----	-----------	------	--------------	-----	-----------	------	--------------

98			<p><u>WP 2: Sollzeitprüfung</u></p> <p>Fahren Sie innerhalb der WP nach den Pfeilen in numerischer Reihenfolge die Strecke in einer von ihnen vorgegebenen Zeit zwischen 30 und 50 Sekunden. In der zweiten Runde versuchen Sie bitte diese Zeit möglichst genau wieder zu erreichen.</p> <p>Messung per Lichtschranke -Start = Ziel.</p> <p>Im Bereich der WP sowie der Anfahrt ist die Einbahnstraßenregelung aufgehoben. Das Anhalten innerhalb der WP ist verboten.</p>
-----------	--	--	---



Bitte geben Sie **HIER**
Ihre Bordkarte ab!
Fahren Sie dann noch
die WP 2

Sie fahren 2 Runden:
In der ersten Runde legen Sie
eine Zeit zwischen 30 und 50
Sek. vor, die Sie in der 2. Runde
ebenfalls fahren müssen

→ = Runde
→ = Ausfahrt

	<p>Wir hoffen, die 29. Arnsberger ADAC Klassik hat Ihnen auch in der kontaktlosen Form gefallen und wir wünschen Ihnen eine angenehme Heimreise</p> <div style="display: flex; justify-content: space-around; align-items: center;"> <div style="text-align: center;"> </div> <div style="text-align: center;"> <p>Ihre Fahrtleitung des AMC-Arnsberg</p> </div> <div style="text-align: center;"> </div> </div>	
--	--	--

